

Næmingarnir gjördu eina kanning av teimum innkomnu plastfløskunum.

Kannað varð, hvørji sløg vóru.

K = Kola

S = Sisu

A = Appilsin

H = Hindber

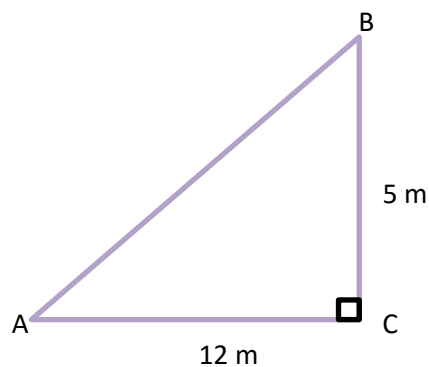
J = Jolly Time

L = Lime

x	t(x)	T(x)	f(x)	F(x)
K	72			
S	36			
A	24			
H	15			
J	27			
L	13			
Tilsamans	187			

- Ger tíðfóristalvuna lidna.
- Tekna eina stabbamynd av tíðfórinum.
- Hvat er mestið?

- Rokna víddina á tríkantinum ABC.
- Rokna longdina á síðuni c.
- Rokna vinkulin A.
- Rokna vinkulin B.




Anna hevur bílagt eina hettutroyggju á netinum. Troyggjan kostar 29 \$.


- a) Hvussu nógv krónur kostar hettutroyggjan? (1 desimal)

Ein líknandi hettutroyggja kostar 299 krónur í Føroyum.

- b) Hvussu nógv \$ kostar henda hettutroyggjan? (1 desimal)
- c) Rokna, hvussu nógv % hettutroyggjan í Føroyum er dýrari enn hon, sum er bíløgð á netinum. (1 desimal)
- d) Hvussu nógv £ eru 125 \$? (1 desimal)

**Kursur:**

 **USD** \$ 702,66

 **GBP** £ 858,38

- a) Umstytt framsøgnina:  $-2(a + 2) + (a + 2)^2$
- b) Ritloys líkningaheildina:  $y = -\frac{1}{2}x + 4$  og  $y = 3x - 3$
- c) Loys líkningina:  $\frac{5x-2}{3} + 2 = 8$
- d) Rokna longdina AB (reyða linjan). (2 desimal)

